

Avaliação – 1º Bimestre

NOME: _____ N°: _____ CLASSE: _____


1. Complete as frases com as expressões abaixo:

astros com luz e calor próprios

astros que não emitem luz própria

- a) As estrelas são _____
- b) Os planetas são _____

2. Observe a imagem e responda às questões.



- a) Quais os astros que não têm luz própria que estão representados na imagem?
- _____
- b) Que estrela está representada na imagem?
- _____
- c) De onde vem a luz da Lua?
- _____
- d) Qual é o satélite natural da Terra?
- _____

3. A Terra não está parada no espaço sideral. Ela faz dois movimentos.

a) Escreva o nome deles e o que significam.

b) Quanto tempo demora a Terra para realizar cada um deles?

4. Relacione a 1ª coluna com a 2ª.

(A) Primavera () é conhecido como a estação dos frutos.

(B) Verão () é a estação mais fria do ano.

(C) Outono () é a estação mais quente do ano.

(D) Inverno () é conhecida como a estação das flores.

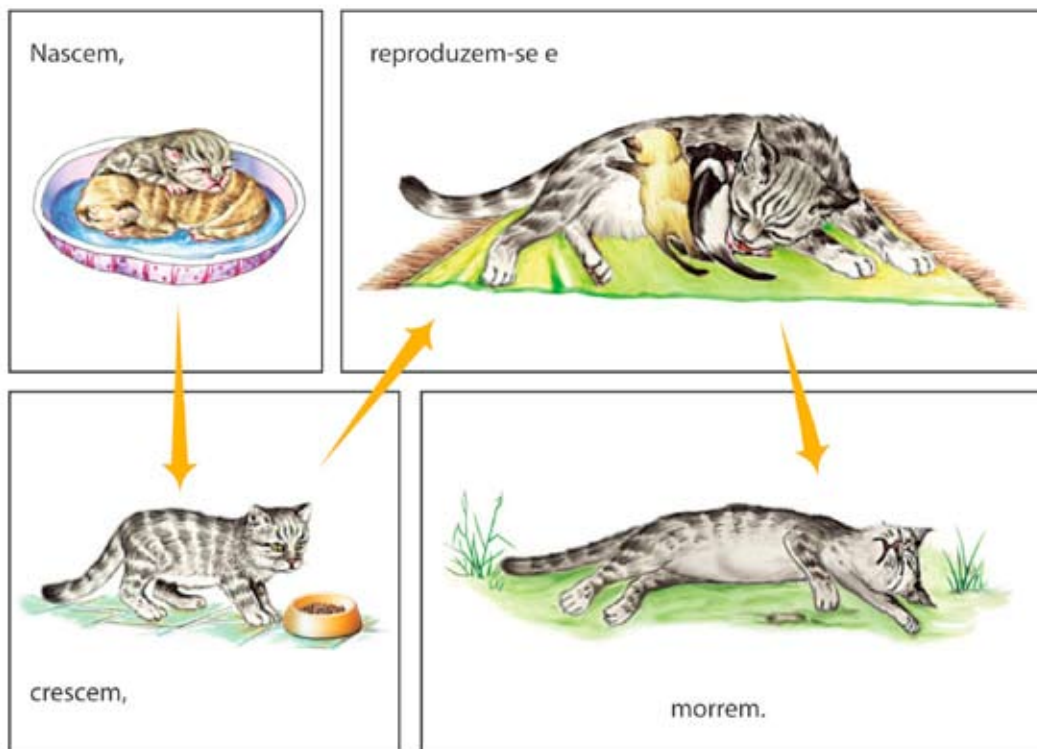
5. Marque **V** para as afirmações verdadeiras e **F** para as falsas. Depois reescreva as frases, tornando-as verdadeiras.

() As rochas existem em pouca quantidade na superfície terrestre.

() Pedacinhos de rochas, ao se misturarem com restos de plantas e de animais, formam o solo.

() É no solo que nascem e crescem muitas plantas e vivem muitos animais.

6. Observe as figuras, preencha as linhas com o que acontece na vida de todos os seres vivos.



Estas figuras representam o _____

7. Preencha a tabela com o que é necessário para evitar:

A poluição do ar	<hr/> <hr/> <hr/> <hr/>
A poluição da água	<hr/> <hr/> <hr/> <hr/>

8. Ligue as palavras aos seus significados.

Água potável

- Seres vivos que estão desaparecendo da natureza.

Esgoto

- Água boa para ser consumida.

Animais em extinção


- Água usada, vinda de casas, fábricas e hospitais.

9. Faça um **X** nas alternativas corretas.

Como podemos cuidar do solo?

- () Plantando árvores para evitar a erosão.
- () Colocando pesticidas e venenos nas plantações.
- () Evitando queimadas.
- () Prevenindo as pessoas sobre o mal para a saúde que podem fazer as fezes e a urina humanas que são feitas sobre o solo.

10. Complete a cruzadinha com a palavra que define cada frase.



- a) É importante para que as plantas cresçam fortes e bonitas.
- b) Retira o excesso de água do solo.
- c) Faz com que a terra fique fofa e com bastante ar.
- d) Leva a água por meio de canos para as plantas.

RESPOSTAS

1. a) astros com luz e calor próprios; b) astros que não emitem luz própria.
2. a) A Terra e a Lua.; b) O Sol.; c) A luz da Lua vem do Sol.; d) A Lua.
3. a) Rotação: movimento da Terra em torno de si mesma e translação: movimento da Terra em torno do Sol.; b) Rotação: 24 horas (um dia) e translação: 365 dias e 6 horas (um ano).
4. (C) é conhecido como a estação dos frutos.; (D) é a estação mais fria do ano.; (B) é a estação mais quente do ano.; (A) é conhecida como a estação das flores.
5. (F) As rochas existem em pouca quantidade na superfície terrestre.

As rochas existem em grande quantidade na superfície terrestre.

(V) Pedacinhos de rochas, ao se misturarem com restos de plantas e de animais, formam o solo.

(V) É no solo que nascem e crescem muitas plantas e vivem muitos animais.
6. ciclo vital de um gato.
7. Colocar filtros nos escapamentos dos automóveis. Evitar queimadas. Não soltar balões.; Tratar o esgoto. Não jogar lixo nas ruas, rios e mares.; Somente duas respostas são necessárias.
8. Água potável (água boa); Esgoto (água usada); Animais em extinção (seres vivos);
9. (X) Plantando árvores para evitar a erosão.; (X) Evitando queimadas.; (X) Prevenindo as pessoas sobre o mal para a saúde que podem fazer as fezes e a urina humanas que são feitas sobre o solo.

