


Atividades – 3º Bimestre

1. Enumere as fotos a seguir de acordo com a legenda:


1 relevo	2 hidrografia
3 tempo	4 vegetação














2. Coloque **F** para falso ou **V** para verdadeiro:

- () clima é o estado momentâneo da atmosfera.
- () tempo é o estado momentâneo da atmosfera.
- () são quatro as estações do ano.
- () rios, oceanos e mares fazem parte da vegetação.

3. Faça um desenho com os quatro elementos da questão 1:



4. Ligue:

Vegetação •

Clima •

Relevo •

• Comportamento do tempo atmosférico durante um longo período.

• Diferentes formas da superfície terrestre.

• Diferentes tipos de plantas e formação vegetal.


5. Busque no dicionário o significado das palavras:**a)** Hidrografia

b) Floresta

c) Mata

Respostas

1.



1




3



1



2

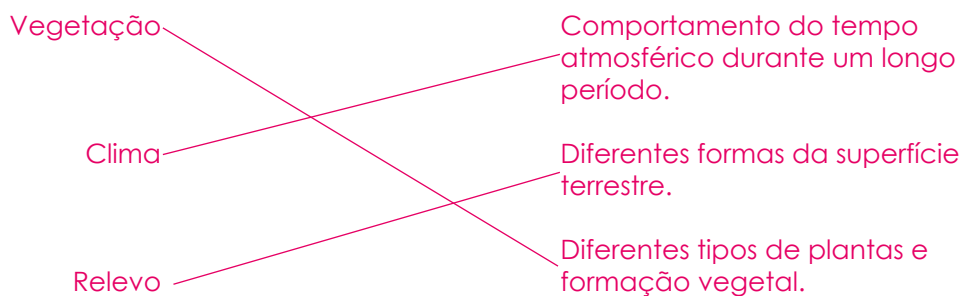


4



2

2. F; V; V; F.
3. Resposta pessoal.
- 4.



5. a) O conjunto das águas correntes ou estáveis duma região. (Aurélio)
Ramo da geografia física que trata das águas correntes, paradas, oceânicas e subterrâneas. (Houaiss); b) Formação arbórea densa, na qual, geralmente, as copas se tocam; mata. (Aurélio)
Denso conjunto de árvores que cobrem vasta extensão de terra; mata. (Houaiss)
c; Terreno onde medram árvores silvestres; floresta, charneca, selva, bosque, mata. (Aurélio)
Área coberta de plantas silvestres de portes diversos. (Houaiss).