


**Atividades – 3º Bimestre**


1. OBSERVE A ILUSTRAÇÃO:



A) QUANTOS CÔMODOS TEM ESSA CASA?

\_\_\_\_\_


B) DESENHE, NO QUADRO ABAIXO, ALGUNS OBJETOS QUE FALTAM NA CASA.



2. RECORTE TRÊS TIPOS DIFERENTES DE MORADIAS E COLE AS IMAGENS NO QUADRO.



3. DESENHE SUA RUA COM TODOS OS ELEMENTOS QUE EXISTEM NELA: CASAS, TIPOS DE COMÉRCIO, ÁRVORES ETC.



4. FAÇA UM X SE EM SUA RUA:

PASSA ÔNIBUS.

TEM ASFALTO.

TEM PADARIA.

TEM ÁRVORES.


EXISTE UMA GRANDE  
CIRCULAÇÃO DE PEDESTRES.

NÃO TEM CALÇAMENTO (É DE  
TERRA).

TEM PRAÇA.

PASSAM MUITOS CARROS.

5. PINTE O SEMÁFORO E LIGUE:



• SIGA!

• PARE!

• ATENÇÃO!

## RESPOSTAS

1. A) 6 CÔMODOS.  
B) RESPOSTA PESSOAL.
2. RESPOSTA PESSOAL.
3. RESPOSTA PESSOAL.
4. RESPOSTA PESSOAL.
- 5.

