



Atividades – 2º Bimestre

1. Resolva o desafio abaixo. Para conseguir, você precisa ler mais de uma vez as informações dadas.


Descubra as idades destas três irmãs:



Sou Maria. Minha idade é a soma das idades das minhas irmãs. Tenho ____ anos.



Eu sou Rita. Tenho 5 anos.



Eu sou Ana. Sou 2 anos mais velha que Rita. Tenho ____ anos.

2. Escolha, no quadro abaixo, os números que podem completar os problemas e, depois, descubra as respostas.

196	72
130	150

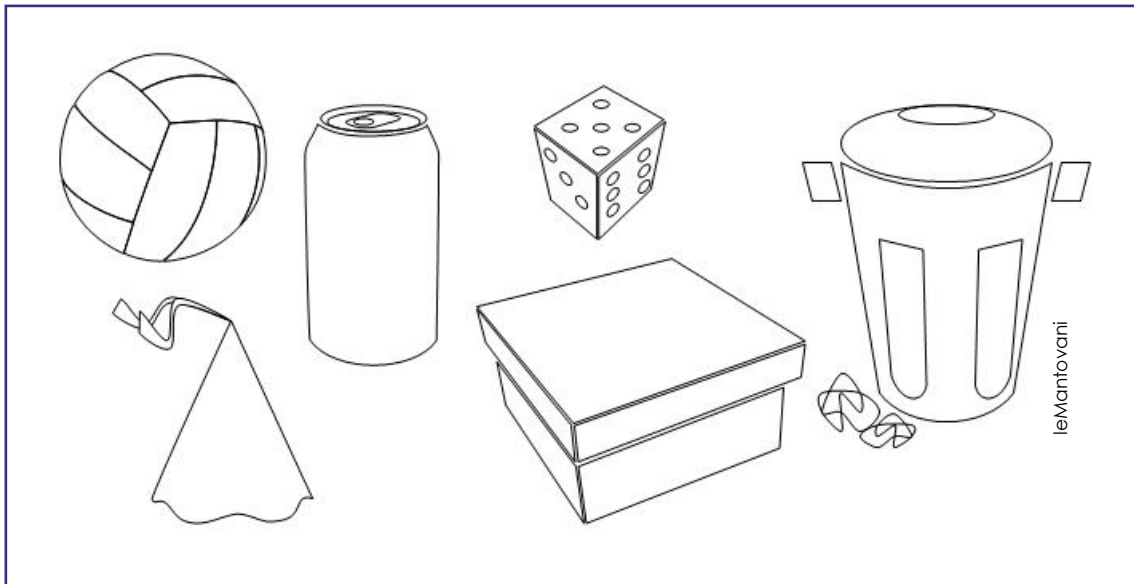
a) Marina precisa fazer _____ bandeirinhas para a festa da escola. Já fez _____ bandeirinhas. Quantas bandeirinhas ela ainda precisa fazer?

RESPOSTA:


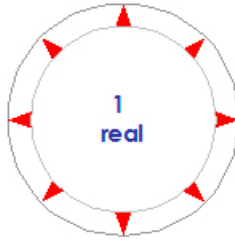
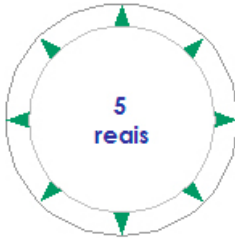
b) Pedro contou o dinheiro que ganhou no seu aniversário: _____ reais de seu tio e _____ reais de seu avô. Quanto ele ganhou ao todo?

RESPOSTA:


3. Pinte os objetos que rolam.



4. Preencha a tabela com a quantidade de **moedas** necessária para trocar as seguintes fichas:

		FICHAS		
				
MOEDAS	10 centavos			
	50 centavos			

5. O quadro abaixo mostra onde foram plantadas as frutas no pomar de uma fazenda.


	1	2	3	4	5
A					
B					
C					
D					
E					

Indique onde estão as frutas, usando as letras e os números, como no exemplo.

leMantovani		A1
		
		
		
		
		
		

6. Recorte triângulos, quadrados, retângulos e círculos, utilizando folhas de revistas. Faça, em uma folha avulsa, uma composição com estas formas e, depois, exponha no mural.

7. Faça, no diagrama abaixo, o caminho da sua classe até o pátio de sua escola. Não se esqueça de fazer as indicações e desenhos necessários na parte de cima do diagrama.



8. Pratique cálculos.

$113 + 105$

$426 + 413$

$402 - 301$

$205 + 203$

$513 - 203$

$846 - 732$

9. Utilizando as figuras abaixo, invente 2 problemas e depois resolva.



• 1º Problema

RESPOSTA: _____

• 2º Problema

RESPOSTA: _____

10. Continue as sequências de números abaixo.

10 - 20 - 30 - ____ - ____ - ____ - ____ - ____ - ____ - 100

50 - 51 - 53 - ____ - 60

70 - 72 - 74 - ____ - ____ - 80

RESPOSTAS

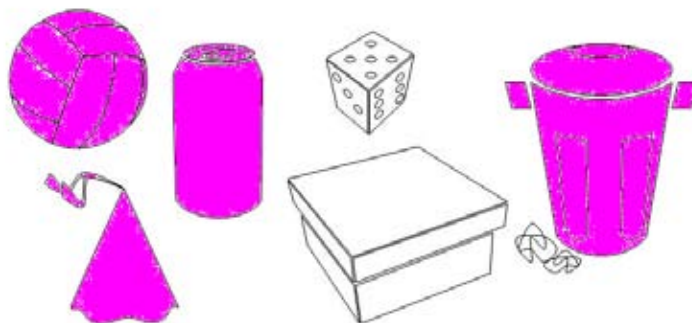
1. Maria tem 12 anos.

Rita tem 5 anos.

Ana tem 7 anos.

2. Resposta pessoal.

3.



4.

		FICHAS		
		50 centavos	1 real	5 reais
MOEDAS	10 centavos	5	10	50
	50 centavos	1	2	10

5.

A1
C2
B5
D4
E5
A4
E2

6. Resposta pessoal.

7. Resposta pessoal.

8.

218	839	101
408	310	114

9. Resposta pessoal.

10. 40 – 50 – 60 – 70 – 80 – 90

56

76 - 78