

Avaliação – 1º Bimestre

NOME: _____ Nº: _____ CLASSE: _____

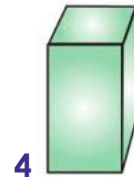
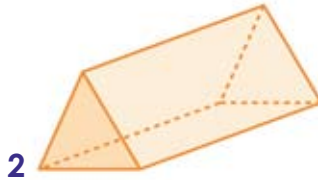
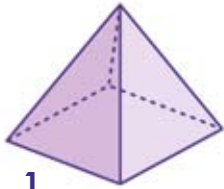
1. Observe esta cena do aniversário de Pedro.



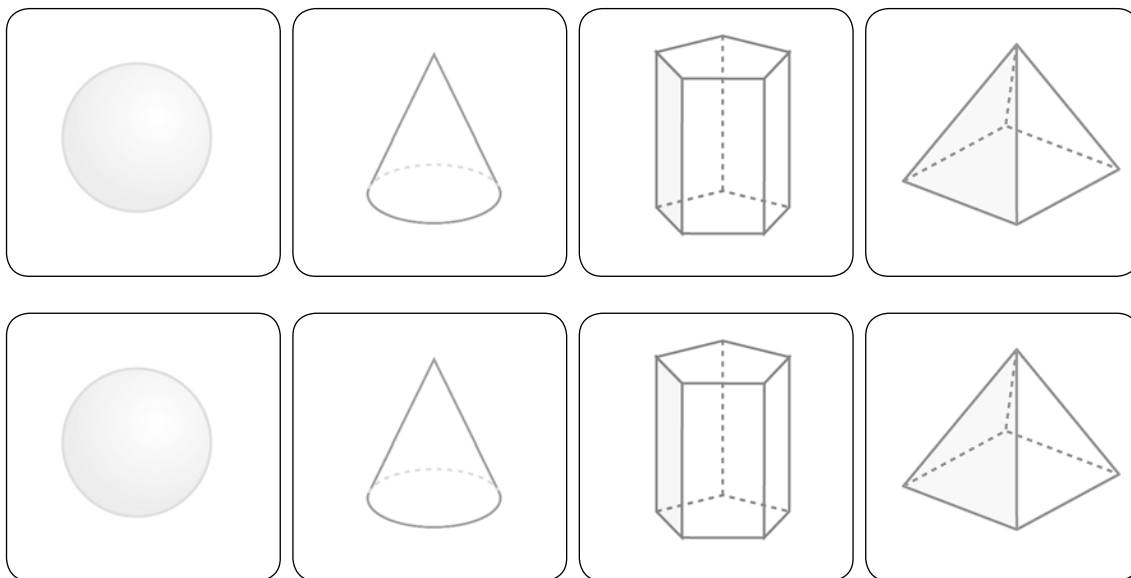
2. Coloque nos quadros as quantidades de acordo com a cena.

Bolo	Crianças	Pratos	Copos	Garrafas	Balões

3. Encontre na imagem abaixo objetos semelhantes aos sólidos apresentados e enumere-os.



4. Pinte a sequência de formas utilizando as cores indicadas:



RESPOSTAS

2.

Bolo	Crianças	Pratos	Copos	Garrafas	Balões
1	13	10	15	4	20