

Avaliação – 1º Bimestre

NOME: _____ N°: _____ CLASSE: _____

1. Observe o número que está no quadro.

Duzentos e sete

Escreva esse número usando a escrita numérica:

romana _____

numeração atual _____

2. Escreva estes números no sistema atual:

XXIX _____

LXVII _____


CCCXIV _____

DCXL _____

3. Pedro escolhe três destas cartelas e forma um número.



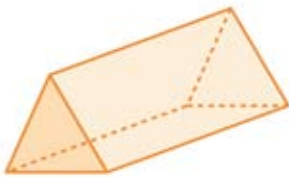
- a) Entre estes números, pinte os que ele poderá formar:

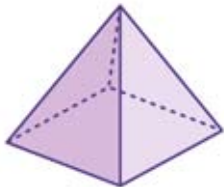


b) Qual é o menor número que Pedro poderá formar?

c) Qual é o sucessor do maior número que ele poderá formar?

4. Dê o nome de cada um destes sólidos geométricos.









5. Observe o folheto com promoções que Camila recebeu.

SUPER PROMOÇÃO



Velocípede por apenas R\$ 315,00



Cadeira azul só R\$ 509,00



Moderníssimo televisor por R\$ 2 999,00



Telefone em duas cores por R\$ 687,00

a) Arredonde os preços e calcule o valor aproximado que Camila gastará com as compras seguintes:

Televisão + Cadeira + Telefone	
Velocípede + Televisão + Telefone	
Velocípede + Televisão + Cadeira	

- b) Camila possui R\$ 1.324,00 e resolveu comprar um velocípede, uma televisão e um telefone. A quantia que ela tem é suficiente para isso? Que quantia vai faltar ou sobrar?

RESPOSTAS

1. CCVII; 207.
2. 29; 67; 314; 640.
3. a) 186 e 216; b) 125; c) 866.
4. Prisma triangular, pirâmide, cilindro e cone.
5. a) Sugestão de resposta, R\$4 200,00; R\$4 020,00; R\$3 830,00.
b) Não, a quantia não é suficiente. Vai faltar R\$2 696,00.