

Avaliação – 2º Bimestre

NOME: _____ Nº: _____ CLASSE: _____

1. observe os números que estão no quadro abaixo e complete o que se pede.

30	31	32	33	34	35	36	37	38	39
40	41	42	43	44	45	46	47	48	49
50	51	52	53	54	55	56	57	58	59

a) Complete os quadros seguintes observando a posição em que se encontram os números no quadro acima:

		42		

	36			

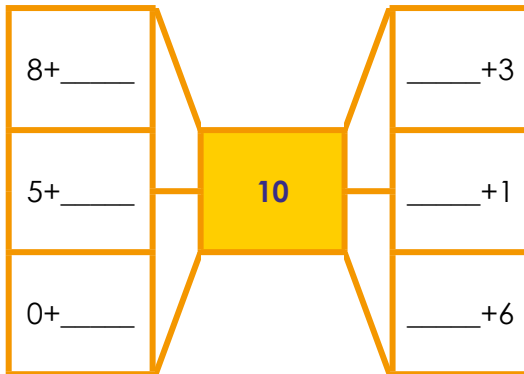
b) Agora, imagine que esse quadro contenha números até 99 e complete os quadros seguintes observando a posição dos números:

		72	

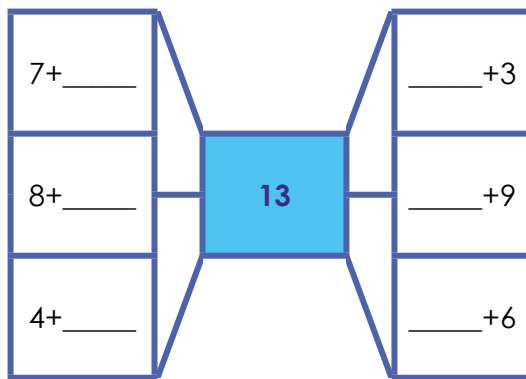
	66		

2. Complete os esquemas seguintes:

a) o resultado é sempre 10.



b) o resultado é sempre 13.

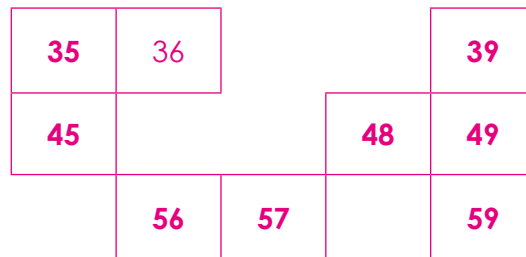
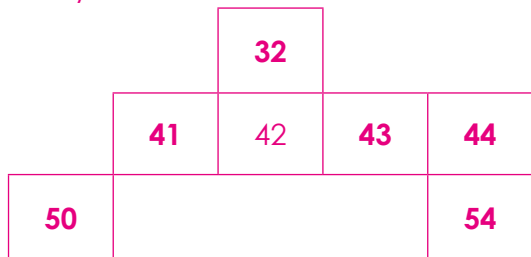


3. Dona Luísa prometeu entregar 65 pamonhas para serem vendidas na quermesse da escola. Ela já fez algumas, mas faltam 23 pamonhas para que ela complete o que prometeu. Quantas pamonhas ela já fez?

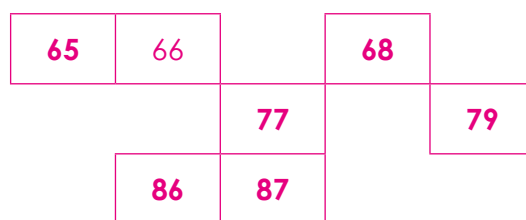
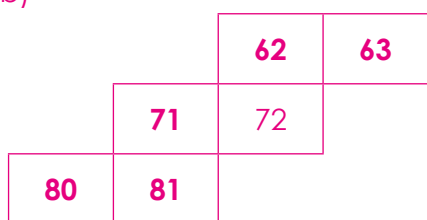
RESPOSTA:

RESPOSTAS

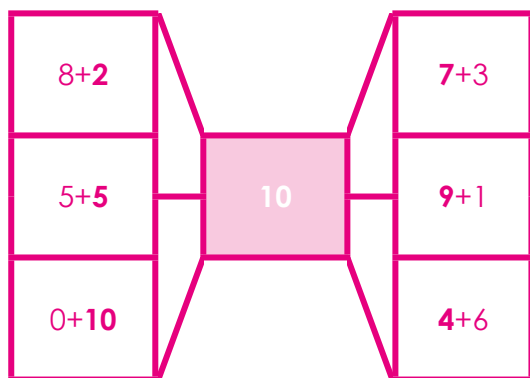
1. a)



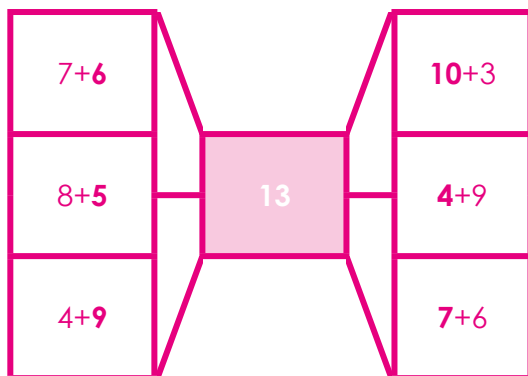
b)



2. a)



b)



3. Dona Luísa já fez 42 pamonhas.