

Avaliação – 2º Bimestre

NOME: _____ N°: _____ CLASSE: _____

1. Como você, sabe tudo o que está a nossa volta tem as mais variadas formas. Escreva ao lado das figuras o nome dos sólidos geométricos com que eles se parecem.

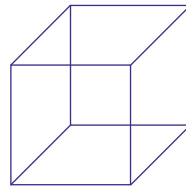








2. Observe a figura abaixo e responda:



- a) Quantas faces o cubo possui? _____
- b) Quantos vértices? _____
- c) Quantas arestas? _____

3. Veja na cena abaixo a idade de cada pessoa e depois responda às perguntas.



leMantovani

- a) Quem é a pessoa mais velha e quantos anos tem?

- b) Qual é a diferença de idade entre Cristina e Felipe?

- c) Quantos anos Márcia é mais velha que Henrique?

d) Quantos anos André é mais novo que Márcia?

e) Qual é a diferença de idade entre André e Henrique?

f) Qual é a diferença de idade entre a pessoa mais velha e a mais nova da cena?

g) Quantos anos faltam para que Márcia tenha a idade de Cristina?

4. Mariana comprou uma boneca por 125 reais, um carrinho para a boneca por 102 reais e uma roupinha por 60 reais. Assinale as notas de que ela vai precisar para pagar a sua compra.



leMontovani

5. Calcule mentalmente e pinte os resultados no diagrama para encontrar uma figura.

$43 + 12 =$

$22 + 10 =$

$66 + 5 =$

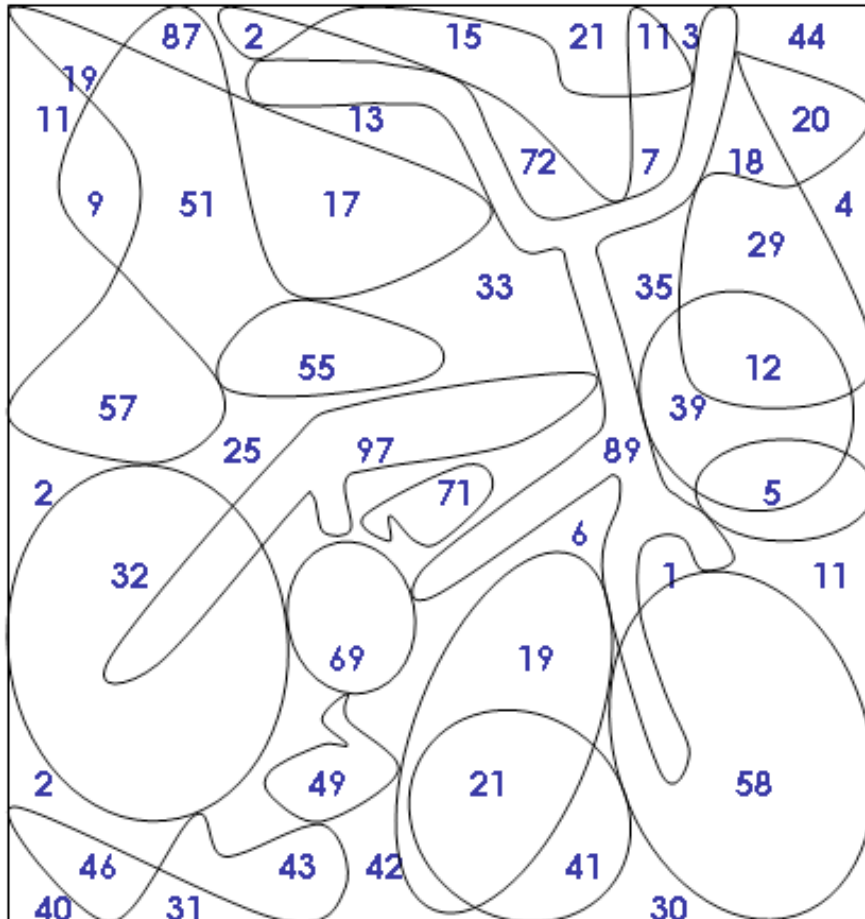
$53 + 5 =$

$92 + 5 =$

$46 + 23 =$

$26 + 23 =$

$48 + 41 =$



leMantovani

6. Nos numerais abaixo, continue fazendo como no exemplo.

244	2 centenas, 4 dezenas e 4 unidades
358	
892	
567	
346	
654	

7. Encontre no diagrama a escrita dos seguintes numerais:

183

640

512

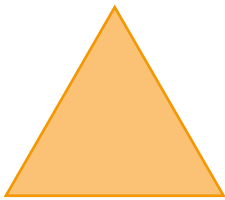
389

E	C	E	N	T	O	E	O	I	T	E	N	T	A	E	T	R	E	S
R	I	R	S	T	I	V	X	Z	W	Y	A	B	C	D	R	F	G	E
V	N	M	A	C	T	N	T	Z	C	N	S	C	I	N	E	Ç	Ã	T
V	Q	Z	Q	I	E	B	C	D	E	S	E	I	S	W	Z	A	B	E
K	U	V	S	C	N	L	A	R	E	D	I	U	C	B	E	Q	C	V
I	E	U	C	N	T	K	U	V	X	Z	S	Y	I	K	N	W	X	K
N	N	S	U	T	A	T	V	X	Z	W	C	O	G	W	T	R	E	S
G	T	V	Z	I	E	I	C	I	U	R	E	I	N	I	O	I	A	V
S	A	A	C	N	D	K	U	V	C	N	N	P	T	B	S	Q	M	Z
V	E	V	N	T	O	C	E	R	E	W	T	A	I	K	E	W	Z	R
C	S	V	Q	U	I	N	H	E	N	T	O	S	E	D	O	Z	E	C
B	E	X	P	B	S	E	V	X	T	W	S	Q	X	K	I	V	X	Z
B	T	E	A	B	C	D	X	Z	O	S	E	R	Z	I	T	R	Z	V
V	E	V	U	V	X	Z	Q	R	E	J	Q	E	R	V	E	Q	R	G
K	N	V	C	D	E	Z	H	P	V	R	U	J	C	N	N	A	G	Z
I	C	D	E	Z	H	P	Q	Z	I	R	A	A	Z	V	T	X	Z	L
A	C	D	E	Z	H	P	Q	C	N	E	R	E	V	A	A	K	L	G
D	E	Z	O	I	T	O	X	Z	T	Ç	E	P	K	U	E	V	X	Z
Ã	V	P	Q	R	C	D	W	Y	E	Ã	N	E	V	A	N	Ç	O	L
O	C	D	E	Z	H	C	D	E	E	H	T	Q	V	P	O	V	X	X
V	P	Q	R	C	D	W	B	V	U	C	A	E	Z	H	V	T	X	V
B	V	B	C	D	E	Z	H	R	M	D	Z	W	C	Q	E	J	T	X
D	U	Z	E	N	T	O	S	E	Z	H	P	Q	R	C	D	W	Y	F

8. Invente um problema que possa ser resolvido com o seguinte cálculo:

$$253 - 143 =$$

9. Faça a correspondência entre as figuras:



círculo



retângulo

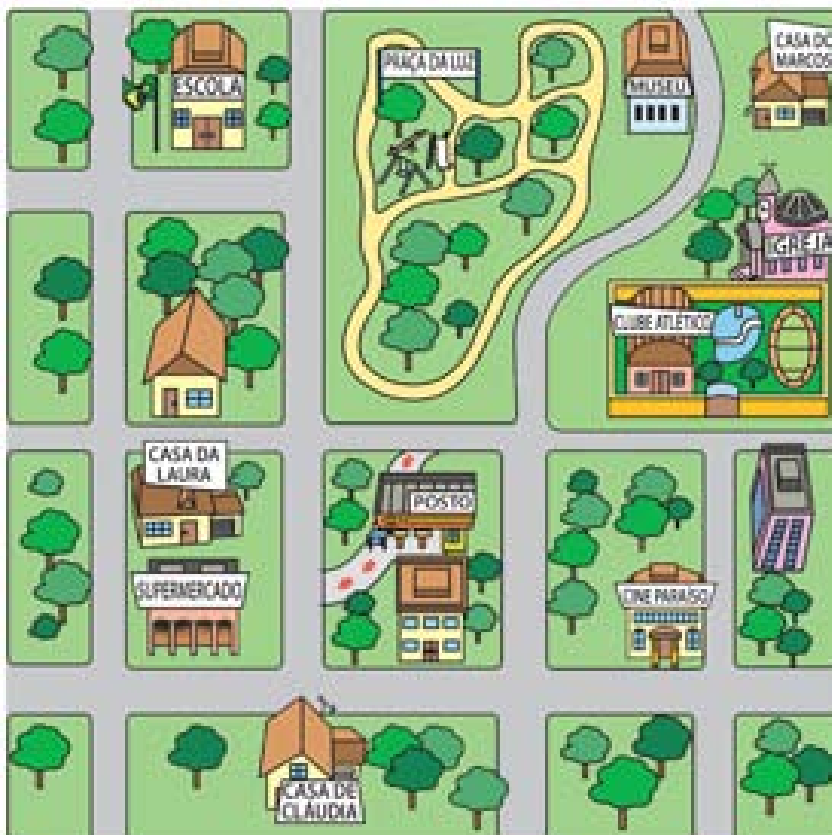


triângulo



quadrado

10. Observe a representação abaixo.



Responda:

a) Onde fica o supermercado?

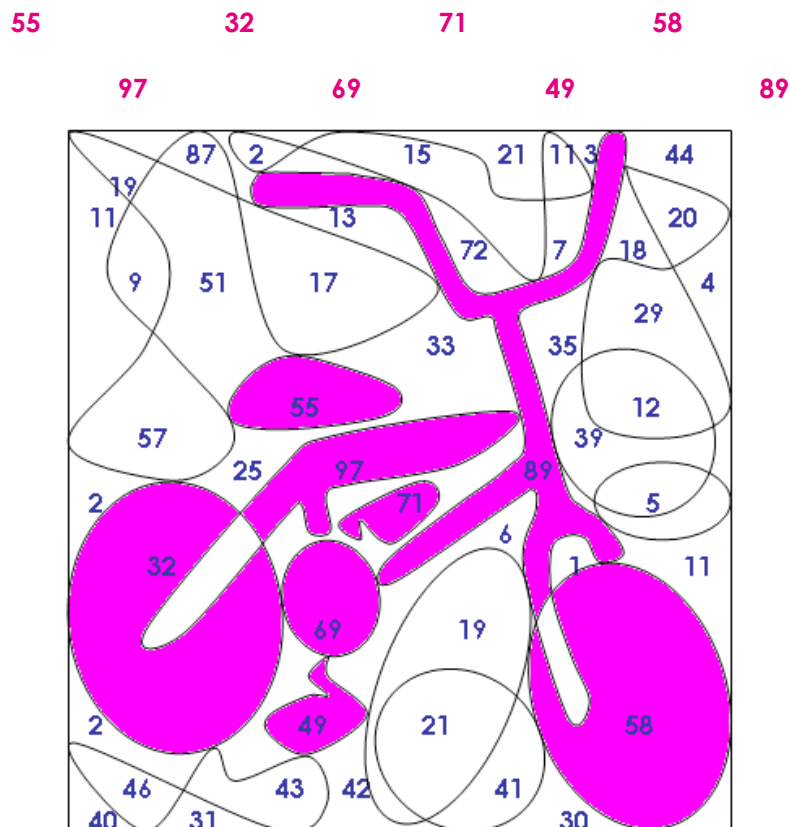
b) Onde fica a igreja?

c) Onde fica a escola?

d) Trace o caminho mais rápido para ir da casa de Cláudia até a escola.

RESPOSTAS

1. esfera.
pirâmide.
cone.
cone.
2. a) O cubo possui 6 faces.
b) 8 vértices.
c) 10 arestas.
3. a) Regina é a pessoa mais velha. Ela tem 72 anos.
b) A diferença de idade entre eles é de 2 anos.
c) Márcia é 7 anos mais velha que Henrique.
d) André é 3 anos mais novo que Márcia.
e) A diferença de idade entre eles é de 4 anos.
f) A diferença de idade entre elas é de 67 anos.
g) Faltam 30 anos para que Márcia tenha a idade de Cristina.
4. Resposta pessoal.



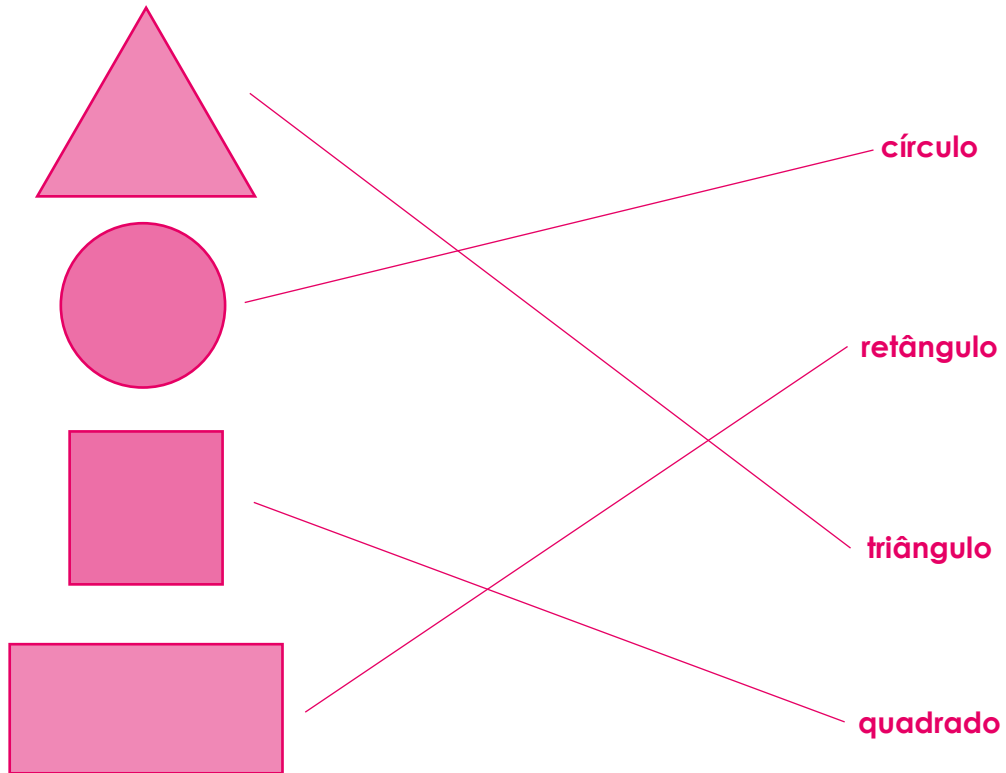
1. 3 centenas, 5 dezenas e 8 unidades.
8 centenas, 9 dezenas e 2 unidades.
5 centenas, 6 dezenas e 7 unidades.
3 centenas, 4 dezenas e 6 unidades.
6 centenas, 5 dezenas e 4 unidades.

2.

E	C	E	N	T	O	E	O	I	T	E	N	T	A	E	T	R	E	S
R	I	R	S	T	I	V	X	Z	W	Y	A	B	C	D	R	F	G	E
V	N	M	A	C	T	N	T	Z	C	N	S	C	I	N	E	Ç	Ã	T
V	Q	Z	Q	I	E	B	C	D	E	S	E	I	S	W	Z	A	B	E
K	U	V	S	C	N	L	A	R	E	D	I	U	C	B	E	Q	C	V
I	E	U	C	N	T	K	U	V	X	Z	S	Y	I	K	N	W	X	K
N	N	S	U	T	A	T	V	X	Z	W	C	O	G	W	T	R	E	S
G	T	V	Z	I	E	I	C	I	U	R	E	I	N	I	O	I	A	V
S	A	A	C	N	D	K	U	V	C	N	N	P	T	B	S	Q	M	Z
V	E	V	N	T	O	C	E	R	E	W	T	A	I	K	E	W	Z	R
C	S	V	Q	U	I	N	H	E	N	T	O	S	E	D	O	Z	E	C
B	E	X	P	B	S	E	V	X	T	W	S	Q	X	K	I	V	X	Z
B	T	E	A	B	C	D	X	Z	O	S	E	R	Z	I	T	R	Z	V
V	E	V	U	V	X	Z	Q	R	E	J	Q	E	R	V	E	Q	R	G
K	N	V	C	D	E	Z	H	P	V	R	U	J	C	N	N	A	G	Z
I	C	D	E	Z	H	P	Q	Z	I	R	A	A	Z	V	T	X	Z	L
A	C	D	E	Z	H	P	Q	C	N	E	R	E	V	A	A	K	L	G
D	E	Z	O	I	T	O	X	Z	T	Ç	E	P	K	U	E	V	X	Z
Ã	V	P	Q	R	C	D	W	Y	E	Ã	N	E	V	A	N	Ç	O	L
O	C	D	E	Z	H	C	D	E	E	H	T	Q	V	P	O	V	X	X
V	P	Q	R	C	D	W	B	V	U	C	A	E	Z	H	V	T	X	V
B	V	B	C	D	E	Z	H	R	M	D	Z	W	C	Q	E	J	T	X
D	U	Z	E	N	T	O	S	E	Z	H	P	Q	R	C	D	W	Y	F

8. Resposta pessoal.

9.



9. Respostas possíveis:

- a) O supermercado fica no mesmo quarteirão da casa de Laura.
- b) A igreja fica atrás do Clube Atlético, próximo à casa de Marcos e do Museu.
- c) A escola fica perto da Praça da Luz, a 2 quarteirões do supermercado.
- d)

