













Avaliação – 2º Bimestre

NOME: _____ N°: _____ CLASSE: _____

1. Paulo fez o seguinte desenho:

						E
						D
						C
						B
						A
1	2	3	4	5	6	

a) Indique os desenhos feitos por Paulo nas seguintes posições:

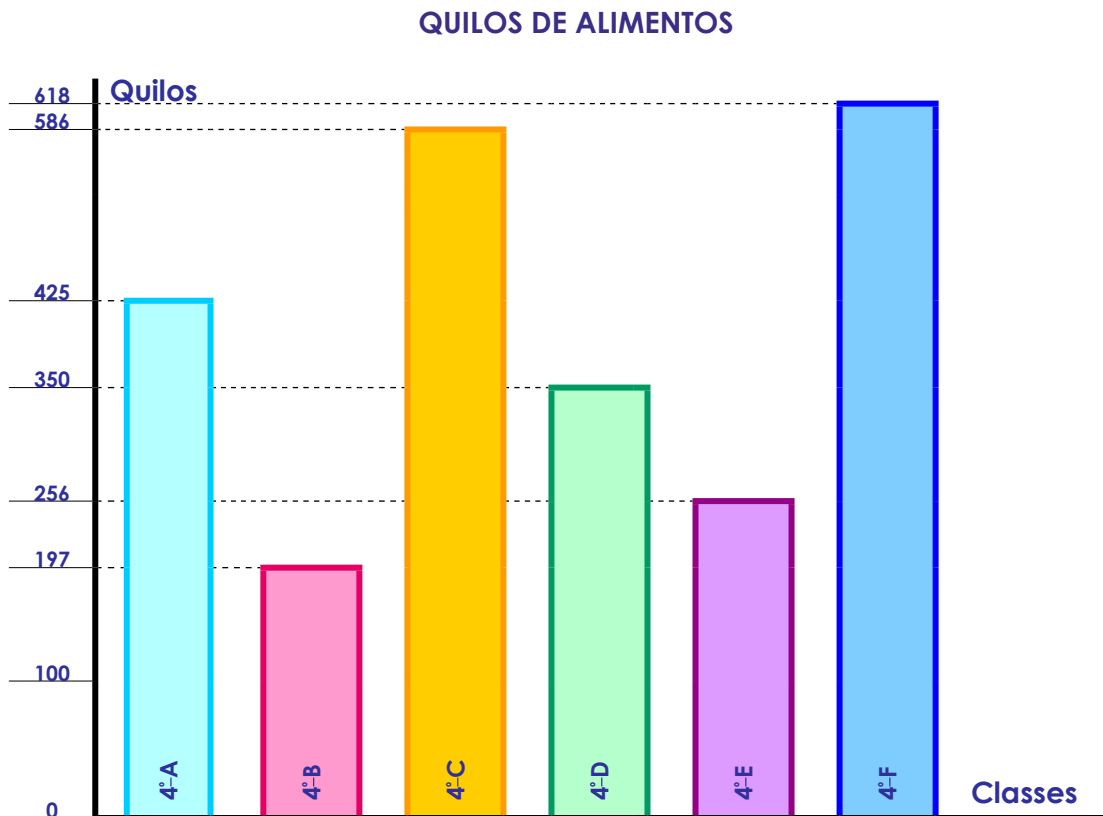
3C	1E	4B

b) Indique as posições dos seguintes desenhos:

macaco	casa	bule

c) Faça um desenho qualquer na posição 5C.

2. Os alunos das classes do 4º ano participaram de uma gincana para arrecadar alimentos para ajudar uma instituição de crianças carentes. Observe a quantidade de quilos de alimentos que cada classe conseguiu.



- a) Que classe conseguiu arrecadar mais alimentos?
- _____
- b) Qual foi a classe que conseguiu a menor quantidade de alimentos?
- _____
- c) Qual é a diferença entre a quantidade de quilos obtida pela classe que mais arrecadou e a que menos arrecadou alimentos?
- _____
- d) Qual foi a quantidade total de alimentos obtida pelos alunos?
- _____

3. Algumas pesquisas indicam que uma pessoa produz, em média, cerca de 10 quilogramas de lixo a cada dois dias. Quantos quilogramas de lixo produzem por dia:

a) 10 pessoas?

RESPOSTA: _____

b) 100 pessoas?

RESPOSTA: _____

c) 1 000 pessoas?

RESPOSTA: _____

d) 100 000 pessoas?

RESPOSTA: _____

RESPOSTAS

1. a)

3C	1E	4B
bola	casa	bule

b)

macaco	casa	bule
5A	1E	4B

c) Resposta pessoal.

2. a) A classe 4ºF conseguiu arrecadar mais alimentos.
b) A classe 4ºB conseguiu a menor quantidade de alimentos.
c) A diferença é de 421Kg.
d) A quantidade total de alimentos obtida pelos alunos foi de 2 432Kg.
3. a) 10 pessoas produzem 50Kg de lixo por dia.
b) 100 pessoas produzem 500kg de lixo por dia.
c) 1 000 pessoas produzem 5 000kg de lixo por dia.
d) 100 000 pessoas produzem 500 000kg de lixo por dia.